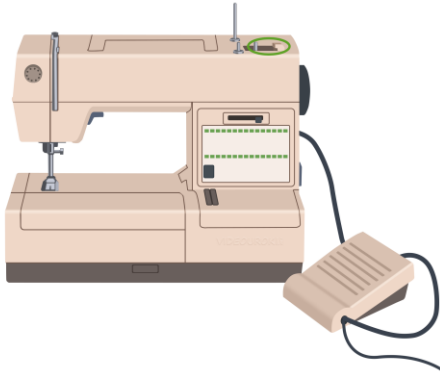


## Швейная машина. Основные операции при машинной обработке изделий

1. Как называется деталь машины, которые на рисунке обведены зеленым овалом?

Изображение:

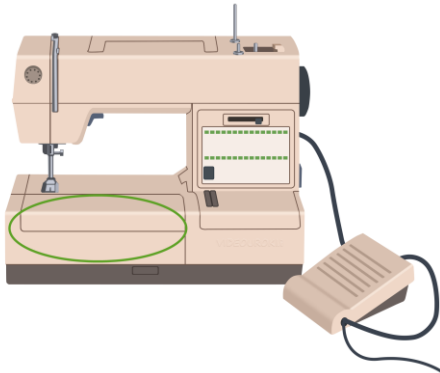


Выберите один из 5 вариантов ответа:

- |                      |            |            |
|----------------------|------------|------------|
| 1) штыри для катушек | 2) моталка | 3) маховик |
| 4) платформа         | 5) лапка   |            |

2. Как называется деталь машины, которые на рисунке обведены зеленым овалом?

Изображение:



Выберите один из 5 вариантов ответа:

- |                      |              |          |
|----------------------|--------------|----------|
| 1) моталка           | 2) платформа | 3) лапка |
| 4) штыри для катушек | 5) маховик   |          |

3. Укажите, какие виды приводов бывают у швейной машины:

Выберите несколько из 5 вариантов ответа:

- |             |           |                  |
|-------------|-----------|------------------|
| 1) передний | 2) задний | 3) электрический |
| 4) ручной   | 5) ножной |                  |

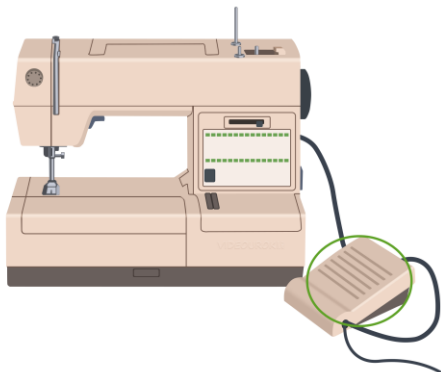
**4. Выберите верные правила безопасной работы со швейной машиной**

*Выберите несколько из 3 вариантов ответа:*

- 1) волосы необходимо распустить
- 2) волосы необходимо убрать под косынку, одежду застегнуть
- 3) убрать от машины посторонние предметы

**5. Как называется деталь машины, которые на рисунке обведены зеленым овалом?**

*Изображение:*

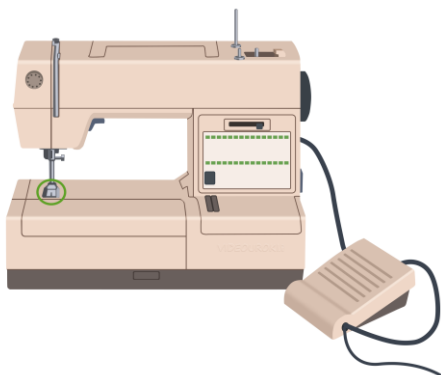


*Выберите один из 5 вариантов ответа:*

- |                      |            |            |
|----------------------|------------|------------|
| 1) штыри для катушек | 2) лапка   | 3) моталка |
| 4) педаль привода    | 5) маховик |            |

**6. Как называется деталь машины, которые на рисунке обведены зеленым овалом?**

*Изображение:*

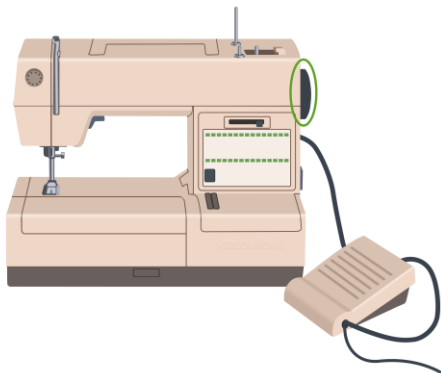


*Выберите один из 5 вариантов ответа:*

- |                      |            |          |
|----------------------|------------|----------|
| 1) штыри для катушек | 2) маховик | 3) лапка |
| 4) платформа         | 5) моталка |          |

7. Как называется деталь машины, которые на рисунке обведены зеленым овалом?

*Изображение:*



*Выберите один из 5 вариантов ответа:*

- |                      |              |            |
|----------------------|--------------|------------|
| 1) штыри для катушек | 2) маховик   | 3) моталка |
| 4) лапка             | 5) платформа |            |

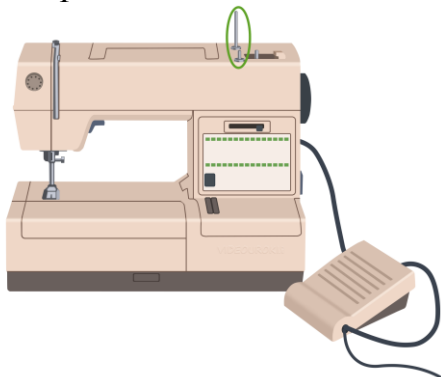
8. Укажите виды швейных машин по виду управлению.

*Выберите несколько из 4 вариантов ответа:*

- |                            |                 |
|----------------------------|-----------------|
| 1) компьютерное управление | 2) механическая |
| 3) электромеханическая     | 4) ручное       |

9. Как называются детали машины, которые на рисунке обведены зеленым овалом?

*Изображение:*



*Выберите один из 5 вариантов ответа:*

- |            |                      |            |
|------------|----------------------|------------|
| 1) лапка   | 2) штыри для катушек | 3) маховик |
| 4) моталка | 5) платформа         |            |

**10.** Закончите предложение:

Основное технологическое оборудование для изготовления швейных изделий - это \_\_\_\_\_.

*Запишите ответ:* \_\_\_\_\_

### **Ответы:**

- 1) (1 б.) Верные ответы: 2;
- 2) (1 б.) Верные ответы: 2;
- 3) (1 б.) Верные ответы: 3; 4; 5;
- 4) (1 б.) Верные ответы: 2; 3;
- 5) (1 б.) Верные ответы: 4;
- 6) (1 б.) Верные ответы: 3;
- 7) (1 б.) Верные ответы: 2;
- 8) (1 б.) Верные ответы: 1; 2; 3;
- 9) (1 б.) Верные ответы: 2;
- 10) (1 б.) Верный ответ: "швейная машина".